

ВСЕРОССИЙСКАЯ ОЛИМПИАДА ШКОЛЬНИКОВ ПО ИСТОРИИ.

ШКОЛЬНЫЙ ЭТАП. 5 КЛАСС.

210548  
 Фамилия, имя Шмельниковский Богдан Класс 5В

Задание 1. По какому принципу образованы ряды (4 балла за каждый правильный ответ, максимальный балл - 12)

120

- а) пещерный медведь, мамонт, шерстистый носорог  
 б) оборотень, идол, дух  
 в) палка-копалка, рубило, скребок

*древние люди отшельники  
 вера орудия труда. них*

Задание 2. Верны ли следующие утверждения? («Да» - «Нет»). Ответы внесите в таблицу (2 балла за каждый правильный ответ, максимальный балл - 16)

В своей работе ремесленники использовали

160

1. плуг
2. серп
3. печь для обжига изделий
4. мотыга
5. гончарный круг
6. гарпун
7. ткацкий станок
8. печь для выплавки металлов

1. +	2. +	3. +	4. +	5. +	6. +	7. +	8. +
нет	нет	да	нет	да	нет	да	да

Задание 3. Решите задачи. (За каждый правильный ответ 5 баллов, всего 15)

1. Во время каникул Коля побывал в Египте. На уроке истории он рассказывал об увиденном сооружении, но забыл его название. Прочитайте текст и помогите Коле. О каком памятнике культуры идёт речь?

100

*пирамида +*

Это величественное сооружение построили в Египте около 2570 г. до н.э. недалеко от Мемфиса, в Гизе. Высота достигает 146, 5 м. На строительство ушло около 2 300 000 каменных блоков.




2. В 1900 г. археологами был раскопан могильник вождя, где найдены остатки бус из драгоценных камней, золотые и серебряные сосуды. Установлено, что захоронение было сделано 7240 лет назад. В каком году был захоронен вождь?


*5217 лет назад -*

3. В Рим был основан в 753 г. до н. э. Сколько лет прошло от основания Рима до 1147 г., т. е. до первого упоминания Москвы в летописях?

*1900 лет прошло +*

Задание 4. Соотнесите названия памятников культуры Древнего Египта с их изображениями. В списке названий памятников больше, чем изображений. (3 балла за правильный ответ, 2 - за частично правильный; максимальный балл - 18).

1.	2.	3.
		
4.	5.	6.



- 1) Аменхотеп IV (Эхнатон)
- 2) Пирамида Хеопса
- 3) Великий Сфинкс
- 4) Колоссы Рамсеса II. Скальный храм в Абу-Симбеле.
- 5) Царица Нефертити,
- 6) Пирамида Джосера
- 7) фреска
- 8) папирус

160

1	2	3	6	5	4
пирамида Хеопса	1) +	4) +	5) +	3) +	папирус

**Задание 5. Прочитайте отрывок из исторического источника и ответьте на вопросы:**  
(правильный ответ 15 баллов)

...Воистину: люди зажиточные поставлены к работе над ручными мельницами. Те, которые были одеты в тонкое полотно, избиваются палками... Воистину: вскрыты архивы. Расхищены податные декларации. Рабы стали владельцами рабов. Воистину: чиновники убиты... Зерно Египта стало общим достоянием. Воистину: свитки законов судебной палаты выброшены, по ним ходят на перекрестках. Бедные люди сламывают их печати на улицах... Бедные люди выходят и входят в великие дворцы. Воистину: дети вельмож выгнаны на улицу. (Речение Ипусера.)

1. Какое событие здесь описано?
2. Какое настроение передает этот текст?
3. К какой группе населения принадлежит Ипусер?

100

свержение правительства  
страх  
Ипусеру принадлежала большая часть населения

**Задание 6.** Заполните пропуски в тексте, поставив номера слов, имен и названий, приведенных ниже (слова и названия даны в именительном падеже) в таблицу в соответствии с буквенным обозначением пропуска. Обратите внимание, что слов, имен и названий больше, чем пропусков в тексте (3 балла за правильный ответ, максимальный балл - 18).

Начало масштабных завоевательных походов связано с именем А. После успешного наступления в ходе нубийской экспедиции его войска двинулись на север, в Переднюю Азию, разоряя Б Египетские войска впервые достигают Северной Месопотамии в районе реки Г названной ими «Перевернутой водой». Восстановление влияния Египта в Восточном Средиземноморье и поворот к захватнической политике в целом своеобразно отразился и в захоронении фараона: он был первым похоронен в Д близ современного Луксора. Новое царство не было периодом строительства гигантских каменных Е, предпочтение стали отдавать более защищенным и дешевым скальным усыпальницам.

- 1- Тутмос I
- 2- Тутанхамон
- 3- Палестина

- 4- Фивы
- 5- Сирия
- 6- Вавилон
- 7- Тигр
- 8- Евфрат
- 9- Мемфис
- 10- Долина царей
- 11- пирамида
- 12- зиккурат

60

А	Б	В	Г	Д	Е
<del>4</del> 7+	10	<del>4</del>	8+	2	3

**Задание 7. Прочитайте два текста, описывающих результаты раскопок на месте стоянок древнейших людей, и ответьте на вопрос. (За правильный ответ 3 балла)**

**А.** Найдены каменные рубила, скребла и другие орудия труда, изготавливаемые путем обивки крупных камней. Обнаружены остатки костей животных, однако их сравнительно мало: судя по всему, основным занятием обитателей данной стоянки было собирательство, а не охота.

**Б.** Среди найденных орудий труда имеются каменные топоры, скребки, наконечники для копий и стрел. Обнаружены захоронения, свидетельствующие о наличии у обитателей стоянки определённых ритуалов, связанных с погребением сородичей: скелеты похороненных людей лежат в определенной позе, похожей на положение спящего человека.

**Задание 8. Решите 2 задачи. (За правильно решенную задачу 3 балла)**

**А.** Воин родился в 16 году до н. э., а погиб в битве в 29 году н.э. Сколько лет он прожил? Ответ запиши числом.

45 лет + 30

**МАКСИМАЛЬНОЕ КОЛИЧЕСТВО БАЛЛОВ ЗА 8 ЗАДАНИЙ – 100 БАЛЛОВ.**

Итого: 730

ВСЕРОССИЙСКАЯ ОЛИМПИАДА ШКОЛЬНИКОВ ПО ИСТОРИИ.

ШКОЛЬНЫЙ ЭТАП. 5 КЛАСС.

210512  
 Фамилия, имя Лавров Артемий Класс 5, "Б"

Задание 1. По какому принципу образованы ряды (4 балла за каждый правильный ответ, максимальный балл - 12)

- (120) + а) пещерный медведь, мамонт, шерстистый носорог - *На них охотились древние люди*  
 + б) оборотень, идол, дух - *В них веровали древнейшие люди.*  
 + в) палка-копалка, рубило, скребок - *оттуда пришла*

Задание 2. Верны ли следующие утверждения? («Да» - «Нет»). Ответы внесите в таблицу (2 балла за каждый правильный ответ, максимальный балл - 16)

В своей работе ремесленники использовали

1. плуг
2. серп
3. печь для обжига изделий
4. мотыга
5. гончарный круг
6. гарпун
7. ткацкий станок
8. печь для выплавки металлов

(160)

1. +	2. -	3. +	4. -	5. +	6. +	7. +	8. +
нет	нет	да	нет	да	нет	да	да

Задание 3. Решите задачи. ( За каждый правильный ответ 5 баллов, всего 15)




1. Во время каникул Коля побывал в Египте. На уроке истории он рассказывал об увиденном сооружении, но забыл его название. Прочитайте текст и помогите Коле. О каком памятнике культуры идёт речь?


Это величественное сооружение построили в Египте около 2570 г. до н.э. недалеко от Мемфиса, в Гизе. Высота достигает 146, 5 м. На строительство ушло около 2 300 000 каменных блоков. *Великий сфинкс*

2..В 1900 г. археологами был раскопан могильник вождя, где найдены остатки бус из драгоценных камней, золотые и серебряные сосуды. Установлено, что захоронение было сделано 7240 лет назад. В каком году был захоронен вождь? *7880 г. э*

3.В Рим был основан в 753 г. до н. э. Сколько лет прошло от основания Рима до 1147 г., т. е. до первого упоминания Москвы в летописях?

Задание 4. Соотнесите названия памятников культуры Древнего Египта с их изображениями. В списке названий памятников больше, чем изображений. (3 балла за правильный ответ, 2 - за частично правильный; максимальный балл - 18).

1.	2.	3.
		
4.	5.	6.



Дивы  
Сирия  
Вавилон  
Тигр  
Евфрат  
Мемфис  
Долина царей  
1- пирамида  
2- зиккурат  
А

120

- 1) Аменхотеп IV (Эхнатон)
- 2) Пирамида Хеопса
- 3) Великий Сфинкс
- 4) Колоссы Рамсеса II. Скальный храм в Абу-Симбеле.
- 5) Царица Нефертити,
- 6) Пирамида Джосера
- 7) фреска
- 8) папирус

1	2	3	4	5	6
45	6+	1+	4+	8	3+
					5-

**Задание 5. Прочитайте отрывок из исторического источника и ответьте на вопросы:**

(правильный ответ 15 баллов)

...Воистину: люди зажиточные поставлены к работе над ручными мельницами. Те, которые были одеты в тонкое полотно, избиваются палками... Воистину: вскрыты архивы. Расхишены податные декларации. Рабы стали владельцами рабов. Воистину: чиновники убиты... Зерно Египта стало общим достоянием. Воистину: свитки законов судебной палаты выброшены, по ним ходят на перекрестках. Бедные люди сламывают их печати на улицах... Бедные люди выходят и входят в великие дворцы. Воистину: дети вельмож выгнаны на улицу. (Речение Ипусера.)

150

1. Какое событие здесь описано?
2. Какое настроение передает этот текст?
3. К какой группе населения принадлежит Ипусер?

1. Изменение Древнего Египта  
2. бедность

3. Египетской

**Задание 6.** Заполните пропуски в тексте, поставив номера слов, имен и названий, приведенных ниже (слова и названия даны в именительном падеже) в таблицу в соответствии с буквенным обозначением пропуска. Обратите внимание, что слов, имен и названий больше, чем пропусков в тексте (3 балла за правильный ответ, максимальный балл - 18).

Начало масштабных завоевательных походов связано с именем А. После успешного наступления в ходе нубийской экспедиции его войска двинулись на север, в Переднюю Азию, разоряя Б Египетские войска впервые достигают Северной Месопотамии в районе реки Г названной ими «Перевернутой водой». Восстановление влияния Египта в Восточном Средиземноморье и поворот к захватнической политике в целом своеобразно отразился и в захоронении фараона: он был первым похоронен в Д близ современного Луксора. Новое царство не было периодом строительства гигантских каменных Е, предпочтение стали отдавать более защищенным и дешевым скальным усыпальницам.

- 1- Тутмос I
- 2- Тутанхамон
- 3- Палестина

- 4- Фивы
- 5- Сирия
- 6- Вавилон
- 7- Тигр
- 8- Евфрат
- 9- Мемфис
- 10- Долина царей
- 11- пирамида
- 12- зиккурат

(120)

А	Б	В	Г	Д	Е
1 +	3 +	5 +	7 -	2 -	11 +

**Задание 7. Прочитайте два текста, описывающих результаты раскопок на месте стоянок древнейших людей, и ответьте на вопрос. (За правильный ответ 3 балла)**

**А.** Найдены каменные рубила, скребла и другие орудия труда, изготавливаемые путем обивки крупных камней. Обнаружены остатки костей животных, однако их сравнительно мало: судя по всему, основным занятием обитателей данной стоянки было собирательство, а не охота.

**Б.** Среди найденных орудий труда имеются каменные топоры, скребки, наконечники для копий и стрел. Обнаружены захоронения, свидетельствующие о наличии у обитателей стоянки определённых ритуалов, связанных с погребением сородичей: скелеты похороненных людей лежат в определенной позе, похожей на положение спящего человека.

**Задание 8. Решите 2 задачи. (За правильно решенную задачу 3 балла)**

**А.** Воин родился в 16 году до н. э., а погиб в битве в 29 году н.э. Сколько лет он прожил? Ответ запиши числом.

**МАКСИМАЛЬНОЕ КОЛИЧЕСТВО БАЛЛОВ ЗА 8 ЗАДАНИЙ – 100 БАЛЛОВ.**

Итого: 675.